

FOLHA 04

OS ESPELHOS ESFÉRICOS

Q. 1 – CASCA ESFÉRICA

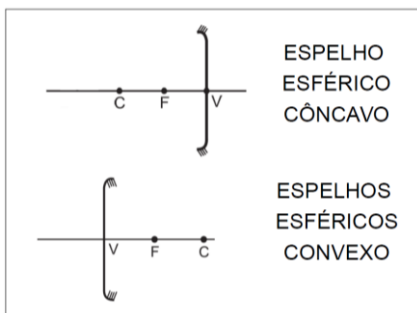



Figura 1: representação usual de espelhos esféricos

- O ponto C é o centro do espelho
- O ponto V é a intersecção entre o eixo principal e o espelho (vértice)
- O foco (F) é o ponto médio entre o vértice (V) e o centro (C) do espelho
- Quando θ é muito pequeno ($\theta < 15$ graus) dizemos que o espelho é gaussiano

a) RAIOS NOTÁVEIS

RAIOS NOTÁVEIS ESPELHOS ESFÉRICOS CÔNCAVOS

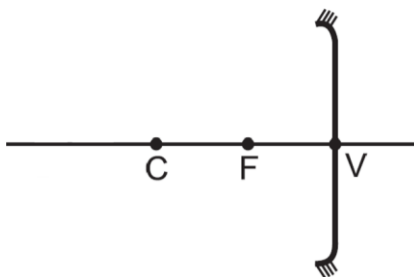


Figura 2: Raio incidindo paralelamente ao eixo principal

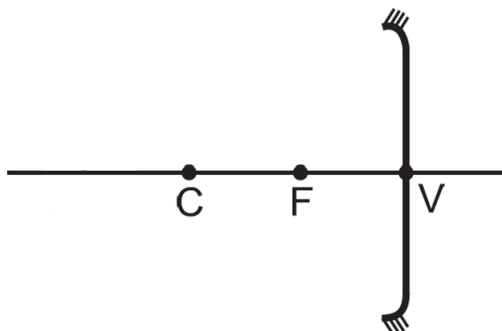


Figura 3: Raio incidindo passando pelo foco

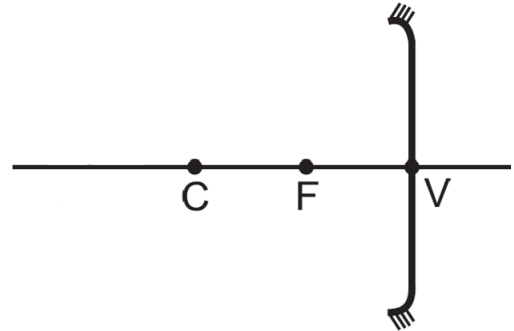


Figura 4: Raio incidindo passando pelo centro de curvatura

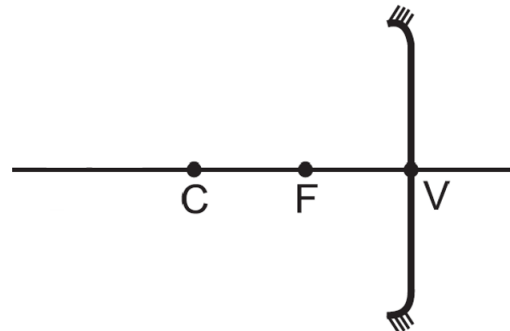


Figura 5: Raio atingindo o vértice do espelho

RAIOS NOTÁVEIS ESPELHOS ESFÉRICOS CONVEXOS

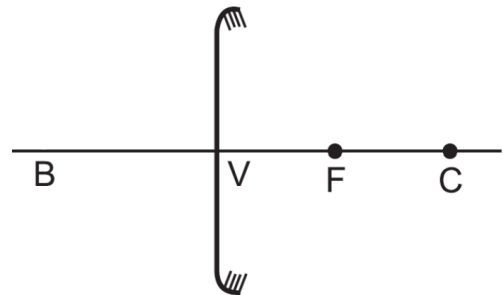


Figura 6: Raio incidindo paralelamente ao eixo principal

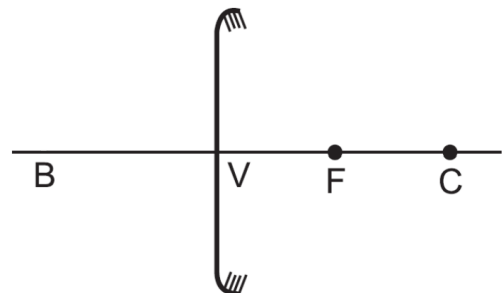


Figura 7: Raio incidindo na direção do foco

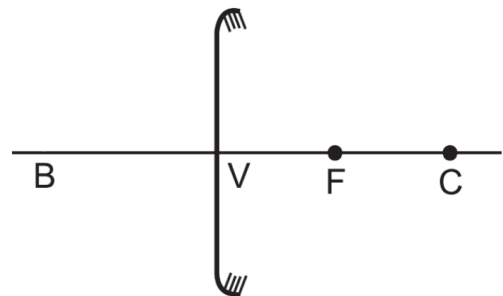


Figura 8: Raio incidindo na direção do centro de curvatura

PROFESSOR DANILO

OS ESPELHOS ESFÉRICOS – PRIMEIRO ANO – 07/04/2023

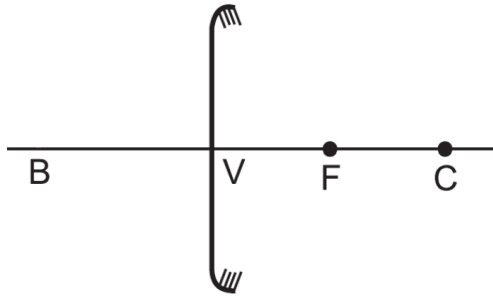


Figura 9: Raio atingindo o vértice do espelho

b) FOCO SECUNDÁRIO

ESPELHO CÔNCAVO

Seja um raio incidente num espelho esférico côncavo tal como na figura a seguir. Note que este raio, pelo que se pode perceber pela figura, não é um raio notável, assim não podemos saber, a priori, para onde o raio vai.

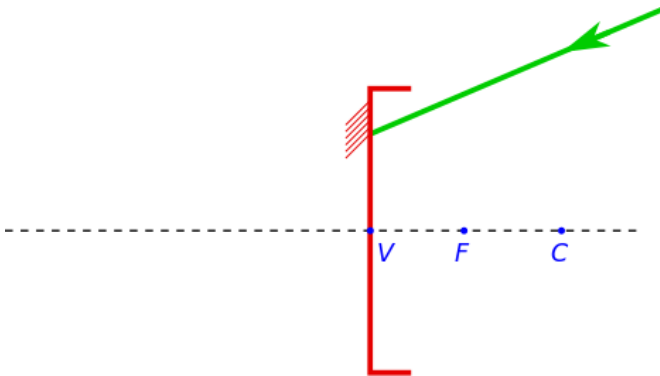


Figura 10: Raio incidindo em um espelho esférico côncavo. O raio não é nenhum dos casos de raio notável.

Para sabermos onde este raio vai utilizamos um eixo secundário e determinamos um foco secundário, assim o raio passará pelo foco secundário. Vamos ao método:

- Trace uma linha tracejada paralela ao raio incidente passando pelo centro C do espelho, conforme figura 10, assim você terá obtido o eixo secundário;
- Trace uma linha também tracejada perpendicular ao eixo principal passando pelo foco. O encontro das duas retas é o local onde se encontra o foco secundário, conforme figura 11.
- Por fim, o raio incidente irá passar pelo foco secundário assim obtido, conforme figura 12.

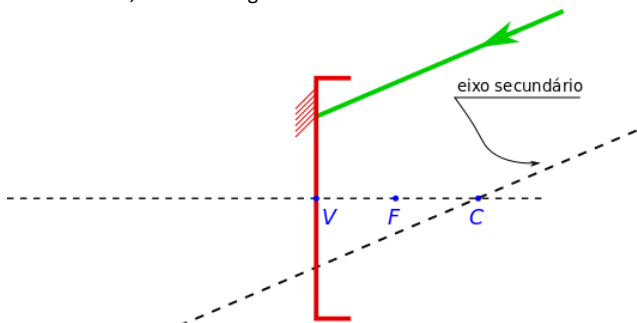


Figura 11: A linha tracejada passando pelo centro de curvatura do espelho e é paralela ao raio incidente corresponde ao eixo secundário.

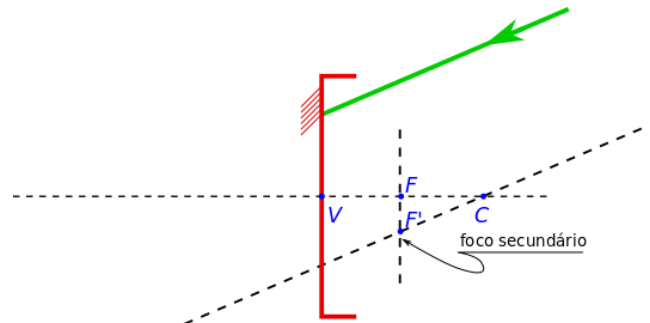


Figura 12: Ao traçarmos a linha vertical obtemos o foco secundário, pois este é a interseção entre o eixo secundário e essa reta vertical.

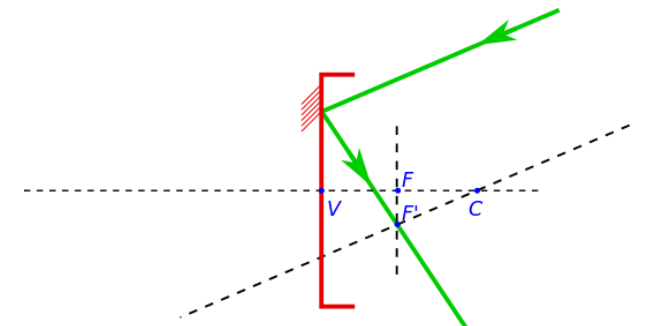


Figura 13: O raio incidente, que é paralelo ao eixo secundário, ao ser refletido irá passar pelo foco secundário.

Chamamos de F' o foco secundário localizado no eixo secundário do espelho esférico côncavo.

ESPELHO CONVEXO

O processo é praticamente o mesmo, mas vamos repeti-lo. Seja um raio incidente num espelho esférico tal como na figura a seguir. Note que este raio, pelo que se pode perceber pela figura, não é um raio notável, assim não podemos saber a priori para onde o raio vai.

Seja um raio incidente num espelho esférico tal como na figura a seguir. Note que este raio, pelo que se pode perceber pela figura, não é um raio notável, assim não podemos saber a priori para onde o raio vai.

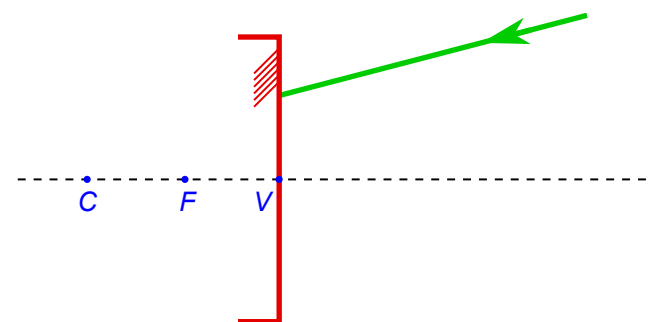


Figura 14: Raio incidindo em um espelho esférico côncavo. O raio não é nenhum dos casos de raios notáveis.

Para sabermos onde este raio vai utilizamos um eixo secundário e determinamos um foco secundário, assim o raio passará pelo foco secundário. Vamos ao método:

- Trace uma linha tracejada paralela ao raio incidente passando pelo centro C do espelho, conforme figura 14, assim você terá obtido o eixo secundário;
- Trace uma linha também tracejada perpendicular ao eixo principal passando pelo foco. O encontro das duas retas é o local onde se encontra o foco secundário, conforme figura 15.

PROFESSOR DANILO

- Por fim, o raio incidente sairá na direção do foco secundário assim obtido, conforme figura 16.

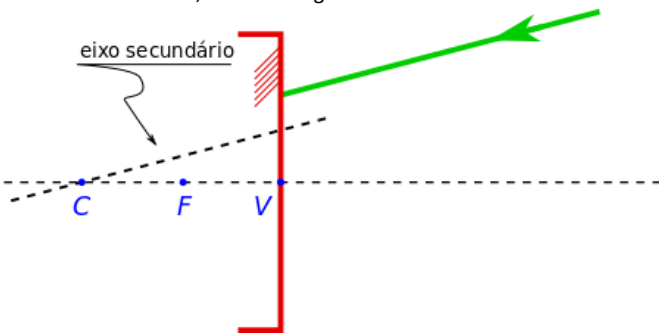


Figura 15: A linha tracejada passando pelo centro de curvatura do espelho e é paralela ao raio incidente corresponde ao eixo secundário.

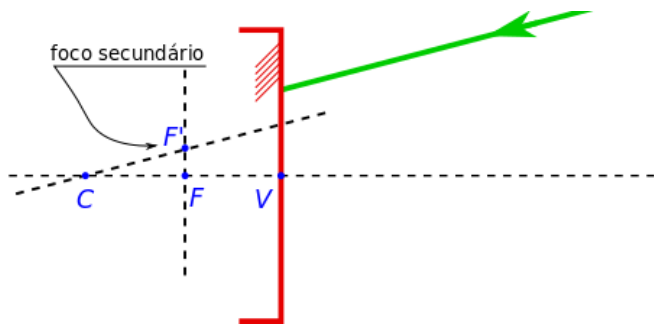


Figura 16: Ao traçarmos a linha vertical obtemos o foco secundário, pois este é a interseção entre o eixo secundário e essa reta vertical.

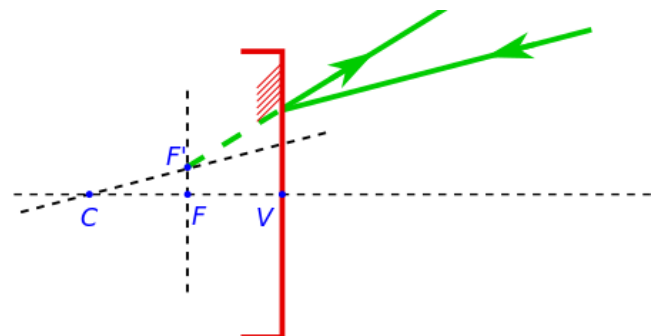


Figura 17: O raio incidente, que é paralelo ao eixo secundário, ao ser refletido irá sair na direção do foco secundário, uma vez que é um espelho esférico convexo.

Chamamos de F' o foco secundário localizado no eixo secundário do espelho esférico convexo.

RESUMINDO

Note que podemos ter novos raios notáveis. Resumindo para o caso dos espelhos côncavos:

- Um raio que incide paralelo ao eixo secundário, ao ser refletido, sai passando pelo foco secundário;
- Um raio que incide passando pelo foco secundário sai paralelo ao eixo secundário.

Agora para espelhos convexos:

- Um raio que incide paralelo ao eixo secundário, ao ser refletido, sai na direção do foco secundário;
- Um raio que incide na direção do foco secundário, ao ser refletido, sai paralelo ao eixo secundário.

Note que o "centro de curvatura secundário" continua sendo no mesmo lugar, como tinha que ser.

Por fim, lembre-se que estamos falando de um espelho esférico gaussiano, ou seja, válido apenas para a aproximação paraxial (ângulos pequenos).

OS ESPELHOS ESFÉRICOS – PRIMEIRO ANO – 07/04/2023

c) FORMAÇÃO DE IMAGENS NOS ESPELHOS ESFÉRICOS

ESPELHOS ESFÉRICOS CÔNCAVOS

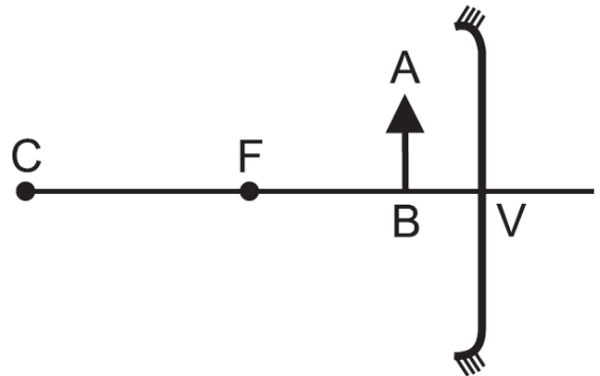


Figura 18: Objeto entre o foco e o vértice

Classificação da imagem:

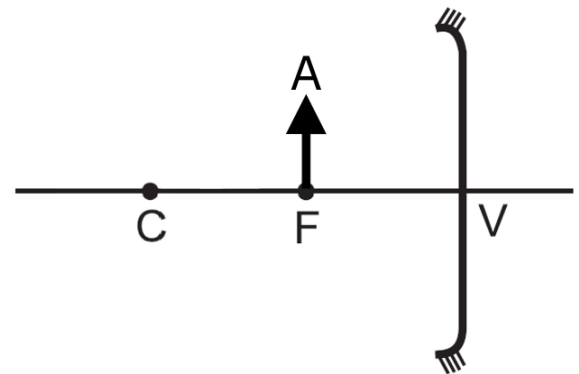


Figura 19: Objeto no foco

Classificação da imagem:

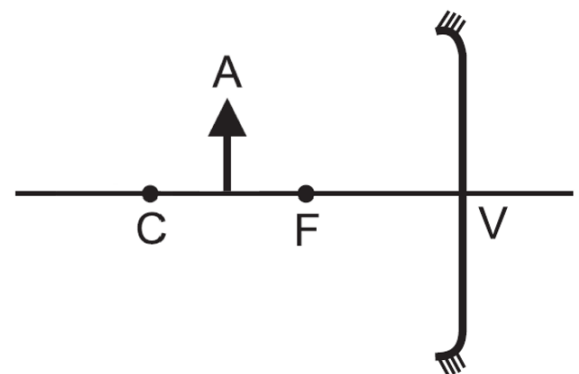


Figura 20: Objeto entre o centro de curvatura e o foco

Classificação da imagem:

PROFESSOR DANILO

OS ESPELHOS ESFÉRICOS – PRIMEIRO ANO – 07/04/2023

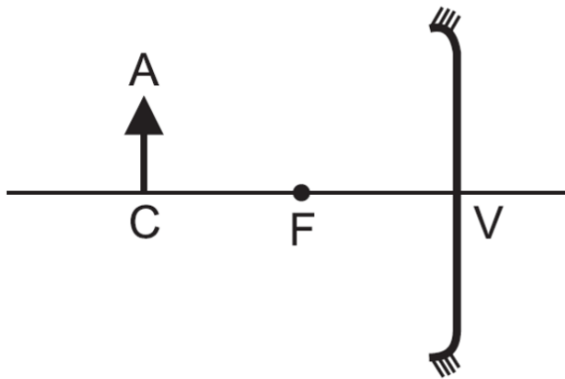


Figura 21: Objeto no centro de curvatura

Classificação da imagem:

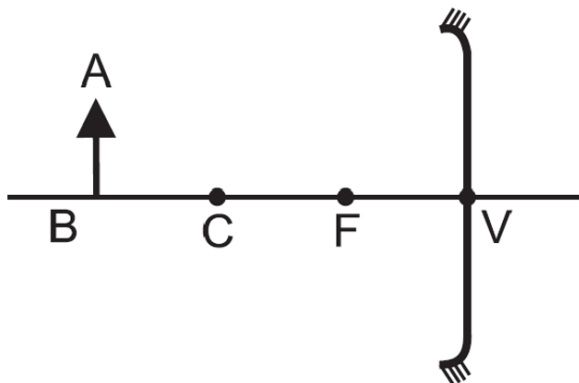


Figura 22: Objeto além do centro de curvatura

Classificação da imagem:

ESPELHOS ESFÉRICOS CÔNEXOS

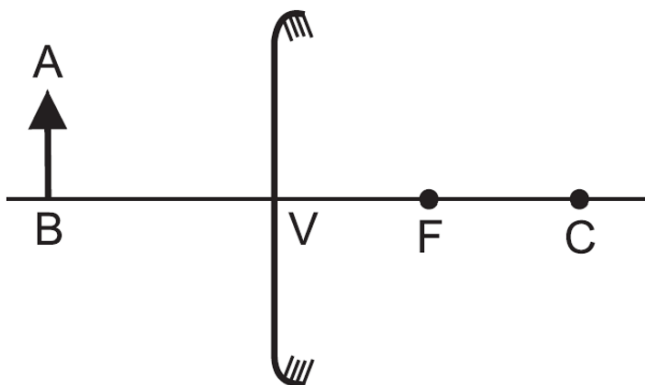


Figura 23: Objeto em frente a um espelho esférico convexo

Classificação da imagem:

FORMAÇÃO DE IMAGENS: REFERENCIAL DE GAUSS

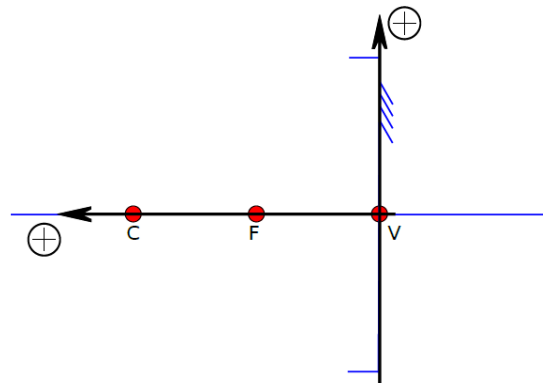


Figura 24: Referencial de Gauss para os espelhos côncavos

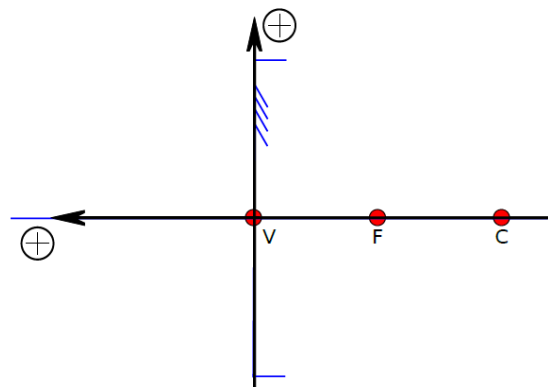


Figura 25: Referencial de Gauss para os espelhos convexos

Memorize as seguintes convenções:

- p : abscissa do objeto
- p' : abscissa da imagem
- $y = o$: ordenada do objeto
- $y' = i$: ordenada da imagem
- f : abscissa do foco
- $2f$: abscissa do centro do espelho
- $p > 0$: Objeto Real
- $p' > 0$: Imagem Real
- $p < 0$: Objeto Virtual
- $p' < 0$: Imagem Virtual
- Se i e o tiverem o mesmo sinal, então a imagem é direita, já se tiverem sinais opostos ela é invertida. Segue então que:
 - $i \cdot o > 0$: Imagem Direita
 - $i \cdot o < 0$: Imagem Invertida
- Com relação ao tipo de espelho:
 - $f > 0$: Espelho Côncavo
 - $f < 0$: Espelho Convexo

EQUAÇÃO DE GAUSS

Q. 2 – EQUAÇÃO DE GAUSS

PROFESSOR DANILO

EQUAÇÃO DO AUMENTO LINEAR TRANSVERSAL

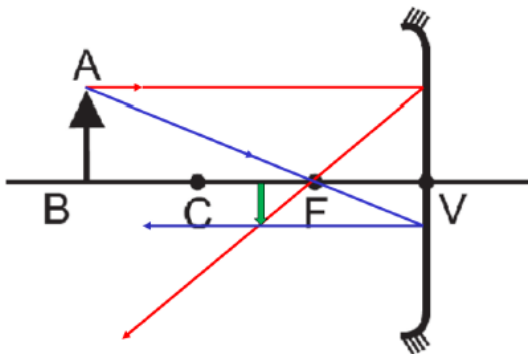


Figura 26: O aumento transversal A definido pela razão i/o .

Por semelhança de triângulos, obtemos:

$$\frac{|o|}{|p|} = \frac{|i|}{|p'|} \Rightarrow \frac{|i|}{|o|} = \frac{|p'|}{|p|} \Rightarrow \frac{i}{o} = \frac{p'}{p}$$

Q. 3 – EQUAÇÃO DO AUMENTO LEVANDO-SE EM CONTA O REFERENCIAL DE GAUSS



EXERCÍCIOS – ESPELHOS ESFÉRICOS

1. (Famerp 2020) No dia 20 de junho de 1969, o ser humano caminhou pela primeira vez na superfície lunar. Em uma das fotos registradas nesse dia pode-se ver uma imagem direita e menor formada pela superfície convexa do visor do capacete do astronauta Edwin Aldrin, que funciona como um espelho.



(www.correiobraziliense.com.br.)

Essa imagem é

- a) real e o objeto se encontra além do centro de curvatura do espelho.
- b) virtual e independe da localização do objeto.
- c) virtual e o objeto se encontra entre o espelho e seu foco principal.
- d) real e o objeto se encontra entre o espelho e seu foco principal.
- e) real e independe da localização do objeto.

2. (Mackenzie 2019)



Foto: Matthew Henry

OS ESPELHOS ESFÉRICOS – PRIMEIRO ANO – 07/04/2023

O espelho bucal, utilizado por dentistas, é um instrumento que pode ser feito com um espelho plano ou esférico.

Um dentista, a fim de obter uma imagem ampliada de um dente específico, deve utilizar um espelho bucal

- a) côncavo, sendo colocado a uma distância do dente menor que a distância focal.
- b) côncavo, sendo colocado a uma distância do dente entre o foco e o centro de curvatura.
- c) convexo, sendo colocado a uma distância do dente entre o foco e o centro de curvatura.
- d) plano.
- e) convexo, sendo colocado a uma distância do dente menor que a distância focal.

3. (Fatec 2019) A figura apresenta a obra de litogravura “Mão com esfera refletora” (1935), do artista gráfico holandês Maurits Cornelis Escher (1898–1972), que se representou por uma imagem refletida em uma esfera.

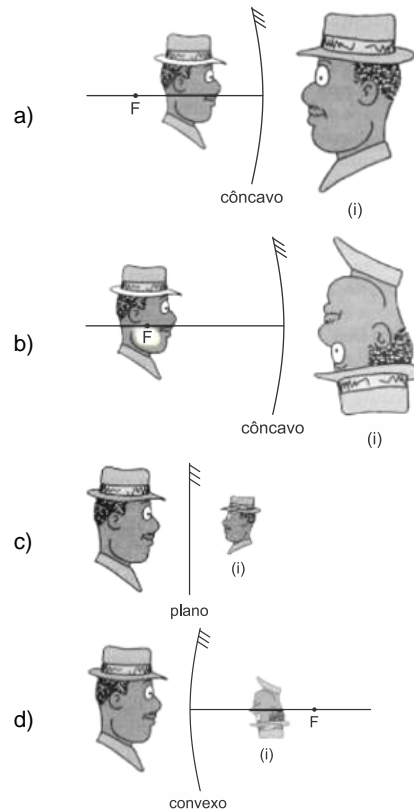


<https://tinyurl.com/yardzola> Acesso em: 15,10,2018.

Sendo o artista o objeto refletido na superfície dessa esfera, podemos afirmar corretamente, sobre essa imagem formada, que se

- a) assemelha à classificação exata de uma imagem observada em uma lente delgada convergente.
- b) assemelha à classificação exata de uma imagem observada em um espelho côncavo.
- c) classifica em menor, direita e real.
- d) posiciona entre o foco e o vértice da face refletora.
- e) posiciona entre o raio de curvatura e o vértice da face refletora.

4. (Ufu 2019) Uma pessoa vai até um museu de ciências e numa sala de efeitos luminosos se posiciona frente a diferentes tipos de espelhos (côncavo, convexo e plano). Qual situação a seguir representa a correta imagem (i) que é possível essa pessoa obter de si própria?



PROFESSOR DANILO

5. (Uemg 2019) Ao posicionar a mão à frente de um espelho esférico, Alice verificou a imagem da sua mão conforme a figura a seguir



O tipo de imagem formada da mão e o espelho utilizado são, respectivamente:

- Virtual e côncavo.
- Virtual e convexo.
- Real e convexo.
- Real e côncavo.

6. (Uepg-pss 3 2019) Um objeto real, de 2 cm de altura, encontra-se a 20 cm de um espelho. Considerando que o meio onde o objeto e o espelho se encontram é o ar, assinale o que for correto.

01) Se o espelho for plano, de espessura desprezível, a distância entre o objeto e a sua imagem é de 40 cm.

02) Se o espelho for um espelho esférico côncavo, com uma distância focal de 15 cm, o tamanho da imagem formada é de 6 cm.

04) Se a ampliação da imagem for igual a 1/4, pode-se concluir que se trata de um espelho esférico convexo.

08) Se o objeto se aproximar do espelho plano, com uma velocidade constante, a imagem do objeto irá se afastar do espelho também com velocidade constante.

7. (G1 - ifsul 2019) Um objeto real linear é colocado a 60 cm de um espelho esférico, perpendicularmente ao eixo principal. A altura da imagem fornecida pelo espelho é 4 vezes maior que o objeto e é virtual. Com base nisso, é correto afirmar que esse espelho e a medida do seu raio de curvatura são, respectivamente,

- convexo e 160 cm.
- côncavo e 80 cm.
- convexo e 80 cm.
- côncavo e 160 cm.

8. (Eear 2019) Uma árvore de Natal de 50 cm de altura foi colocada sobre o eixo principal de um espelho côncavo, a uma distância de 25 cm de seu vértice. Sabendo-se que o espelho possui um raio de curvatura de 25 cm, com relação a imagem formada, pode-se afirmar corretamente que:

- É direita e maior do que o objeto, estando a 20 cm do vértice do espelho.
- É direita e maior do que o objeto, estando a 25 cm do vértice do espelho.
- É invertida e maior do que o objeto, estando a 25 cm do vértice do espelho.
- É invertida e do mesmo tamanho do objeto, estando a 25 cm do vértice do espelho.

9. (Uepg 2019) Um objeto real, localiza-se sobre o eixo principal de um espelho esférico côncavo e a uma distância de 15 cm de seu vértice. Considerando que o raio desse espelho é 20 cm, assinale o que for correto.

- 01) A imagem do objeto localiza-se a 10 cm do centro de curvatura do espelho.
- 02) A imagem do objeto produzida pelo espelho é duas vezes menor que o objeto.
- 04) A imagem do objeto é invertida.
- 08) Para o espelho em questão, o foco principal é real.
- 16) A imagem do objeto é virtual.

OS ESPELHOS ESFÉRICOS – PRIMEIRO ANO – 07/04/2023

10. (G1 - ifce 2019) Como atividade extraclasse, um aluno do IFCE resolveu gravar um vídeo no qual utilizou-se de um espelho para representar suas emoções. Num trecho específico do vídeo ele dizia que se sentia grande, com o dobro de seu tamanho. Em outro momento ele afirmava que sua vida estava ao contrário do que devia ser e mostrava uma imagem invertida. Por fim, dizia que na situação atual do país ele não tinha nenhuma referência política para se espelhar e, colocava-se a uma posição tal do espelho que sua imagem se situava no 'infinito'.

De acordo com o enunciado, é **correto** afirmar-se que

- o espelho usado pelo aluno era convexo.
- não é possível saber que tipo de espelho o aluno usava, podendo ser côncavo ou convexo.
- o espelho usado pelo aluno era côncavo.
- não restam dúvidas de que o espelho era plano.
- não é possível que um único espelho produza todas as imagens mencionadas no texto.

11. (Pucrs 2018) O edifício 20 Fenchurch Street, localizado em Londres e conhecido como *Walkie Talkie*, tem causado diversos problemas para a sua vizinhança. Moradores e funcionários da região têm argumentado que, desde a sua construção, os ventos estão mais intensos nas imediações do prédio. Além disso, houve registros de carros estacionados nas proximidades do prédio que tiveram suas pinturas danificadas e suas peças derretidas por conta da reflexão da luz solar ocasionada pelo arranha-céu.

Os carros foram danificados porque pelo menos uma das faces do prédio tem formato semelhante a

- um espelho côncavo.
- um espelho convexo.
- uma lente divergente.
- uma lente convergente.

12. (Cesgranrio 1992) Um objeto de altura h é colocado perpendicularmente ao eixo principal de um espelho esférico côncavo.

Estando o objeto no infinito, a imagem desse objeto será:

- real, localizada no foco.
- real e de mesmo tamanho do objeto.
- real, maior do que o tamanho do objeto.
- virtual e de mesmo tamanho do objeto.
- virtual, menor do que o tamanho do objeto.

13. (Fuvest 1992) A imagem de um objeto forma-se a 40 cm de um espelho côncavo com distância focal de 30 cm. A imagem formada situa-se sobre o eixo principal do espelho, é real, invertida e tem 3 cm de altura.

- Determine a posição do objeto.
- Construa o esquema referente à questão representando objeto, imagem, espelho e raios utilizados e indicando as distâncias envolvidas.

RESPOSTAS

- | | | | | |
|-------------------------|-------|-------|------|------|
| 1. B | 2. A | 3. D | 4. A | 5. A |
| 6. $01 + 02 + 04 = 07.$ | | | | |
| 7. D | 8. D | | | |
| 9. $01 + 04 + 08 = 13.$ | | | | |
| 10. C | 11. A | 12. A | | |
| 13. a) $p = 120$ cm. | | | | |

